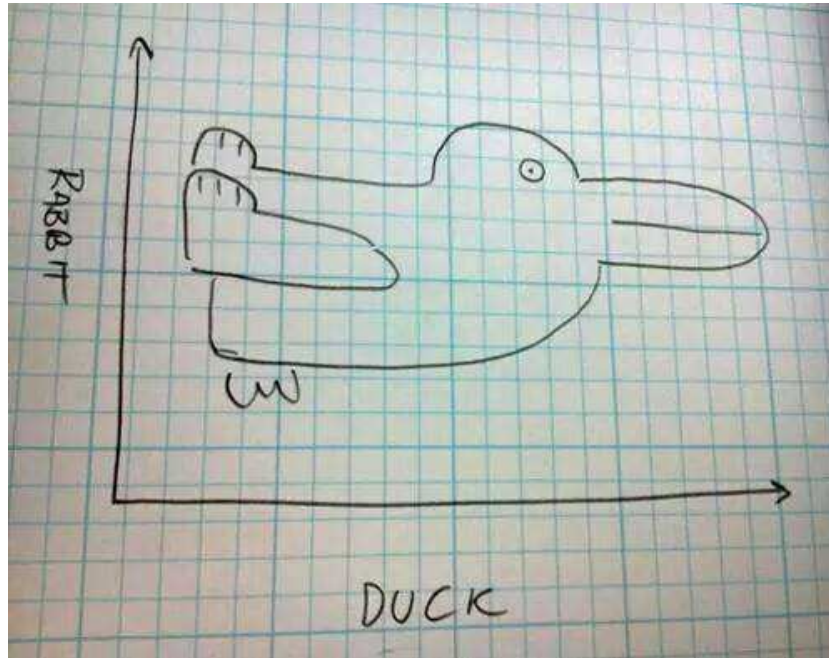


др Владимир Балтић

baltic@viser.edu.rs

10. термин

Испитивање тока и скицирање графика ϕ -ја



Испитивање функција:

1. Област дефинисаности функције (или домен функције) D_f
 2. Нуле и знак функције; пресек са y -осом
 3. Парност и периодичност функције
 4. Граничне вредности функције (лимеси) на крајевима домена D_f и асимптоте функције
 5. Први извод, монотоност и локални екстрими функције
 6. Други извод, конвексност и превојне тачке функције
- ⇒ Скицирање графика функције.

1. Област дефинисаности функције
(или домен функције) D_f

- $f(x) = \frac{g(x)}{h(x)}$ деф $\Rightarrow g(x), h(x)$ деф, $h(x) \neq 0$;

1. Област дефинисаности функције
(или домен функције) D_f

- $f(x) = \frac{g(x)}{h(x)}$ деф $\Rightarrow g(x), h(x)$ деф, $h(x) \neq 0$;
- $f(x) = \ln g(x)$ деф $\Rightarrow g(x)$ деф, $g(x) > 0$
(исто и за било који лог: $f(x) = \log_a g(x)$);

1. Област дефинисаности функције
(или домен функције) D_f

- $f(x) = \frac{g(x)}{h(x)}$ деф $\Rightarrow g(x), h(x)$ деф, $h(x) \neq 0$;
- $f(x) = \ln g(x)$ деф $\Rightarrow g(x)$ деф, $g(x) > 0$
(исто и за било који лог: $f(x) = \log_a g(x)$);
- $f(x) = \sqrt{g(x)}$ деф $\Rightarrow g(x)$ деф, $g(x) \geq 0$
(исто и за $\sqrt[4]{}$, $\sqrt[6]{}$...; $\sqrt[3]{g(x)}$ деф $\Rightarrow g(x)$ деф!);

1. Област дефинисаности функције
(или домен функције) D_f

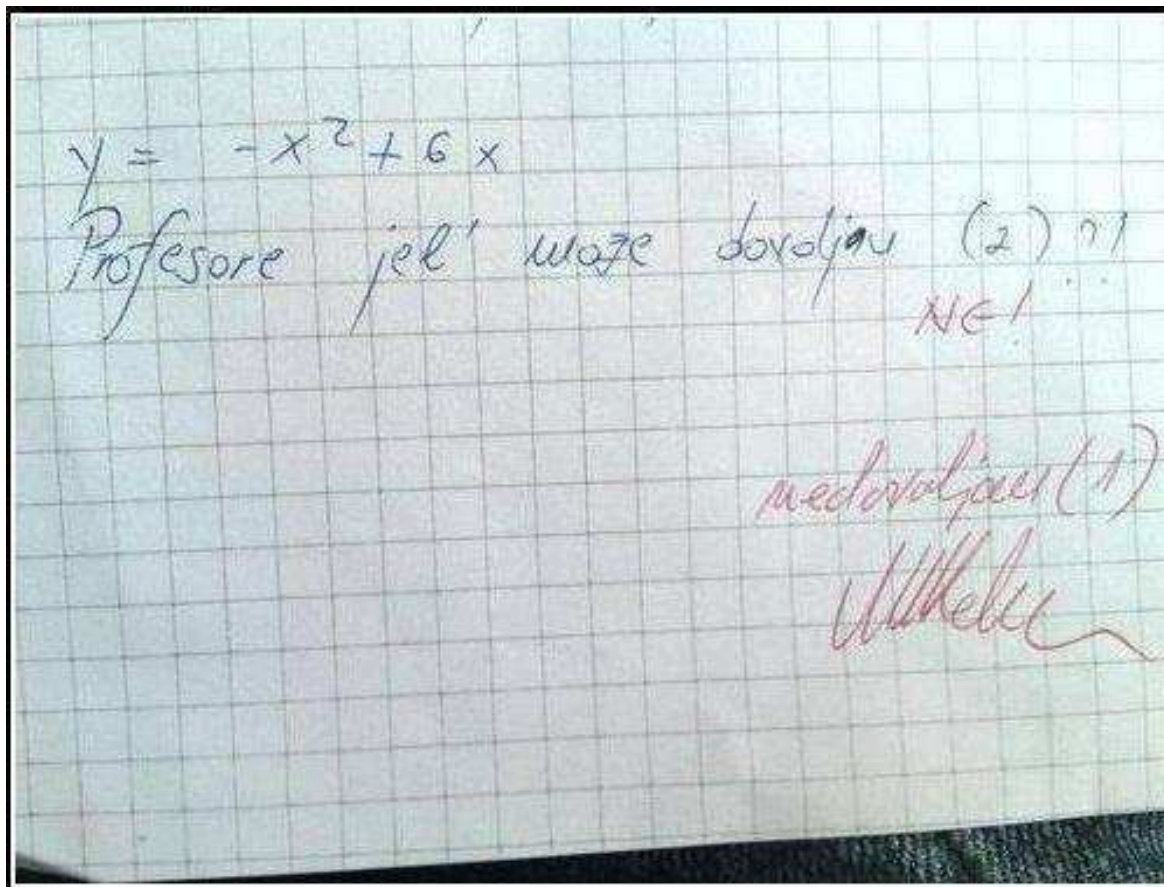
- $f(x) = \frac{g(x)}{h(x)}$ деф $\Rightarrow g(x), h(x)$ деф, $h(x) \neq 0$;
- $f(x) = \ln g(x)$ деф $\Rightarrow g(x)$ деф, $g(x) > 0$
(исто и за било који лог: $f(x) = \log_a g(x)$);
- $f(x) = \sqrt{g(x)}$ деф $\Rightarrow g(x)$ деф, $g(x) \geq 0$
(исто и за $\sqrt[4]{}$, $\sqrt[6]{}$...; $\sqrt[3]{g(x)}$ деф $\Rightarrow g(x)$ деф!);
- $f(x) = \frac{\arcsin g(x)}{\arccos g(x)}$ деф $\Rightarrow g(x)$ деф, $-1 \leq g(x) \leq 1$;

1. Област дефинисаности функције
(или домен функције) D_f

- $f(x) = \frac{g(x)}{h(x)}$ деф $\Rightarrow g(x), h(x)$ деф, $h(x) \neq 0$;
- $f(x) = \ln g(x)$ деф $\Rightarrow g(x)$ деф, $g(x) > 0$
(исто и за било који лог: $f(x) = \log_a g(x)$);
- $f(x) = \sqrt{g(x)}$ деф $\Rightarrow g(x)$ деф, $g(x) \geq 0$
(исто и за $\sqrt[4]{}$, $\sqrt[6]{}$...; $\sqrt[3]{g(x)}$ деф $\Rightarrow g(x)$ деф!);
- $f(x) = \begin{matrix} \arcsin g(x) \\ \arccos g(x) \end{matrix}$ деф $\Rightarrow g(x)$ деф, $-1 \leq g(x) \leq 1$;
- остале ф-је (сем tg и ctg) су **УВЕК** деф!

2. Нуле и знак функције; пресек са y -осом

- Нуле и знак функције \rightarrow **II средње!**



2. Нуле и знак функције; пресек са y -осом

- Нуле и знак функције \rightarrow **Π средње!**
- Пресек са y -осом је $Y(0, f(0))$.

Након ове 2 тачке почињемо цртање функције!!!

3. Парност и периодичност функције

- $f(x)$ је **парна**: $(\forall x \in D_f) f(-x) = f(x)$.
- $f(x)$ је **непарна**: $(\forall x \in D_f) f(-x) = -f(x)$.

3. Парност и периодичност функције

- $f(x)$ је **парна**: $(\forall x \in D_f) f(-x) = f(x)$.
- $f(x)$ је **непарна**: $(\forall x \in D_f) f(-x) = -f(x)$.

Ако није:

$f(-a) \neq f(a) \Rightarrow$ није парна.

$f(-a) \neq -f(a) \Rightarrow$ није непарна.

3. Парност и периодичност функције

- $f(x)$ је **парна**: $(\forall x \in D_f) f(-x) = f(x)$.
- $f(x)$ је **непарна**: $(\forall x \in D_f) f(-x) = -f(x)$.

Ако није:

$f(-a) \neq f(a) \Rightarrow$ није парна.

$f(-a) \neq -f(a) \Rightarrow$ није непарна.

Ако није:

Како функција $f(x)$ нема симетричан домен у односу на $x = 0$ она није ни парна ни непарна!

3. Парност и периодичност функције

- $f(x)$ је **парна**: $(\forall x \in D_f) f(-x) = f(x)$.
- $f(x)$ је **непарна**: $(\forall x \in D_f) f(-x) = -f(x)$.

Ако није:

$f(-a) \neq f(a) \Rightarrow$ није парна.

$f(-a) \neq -f(a) \Rightarrow$ није непарна.

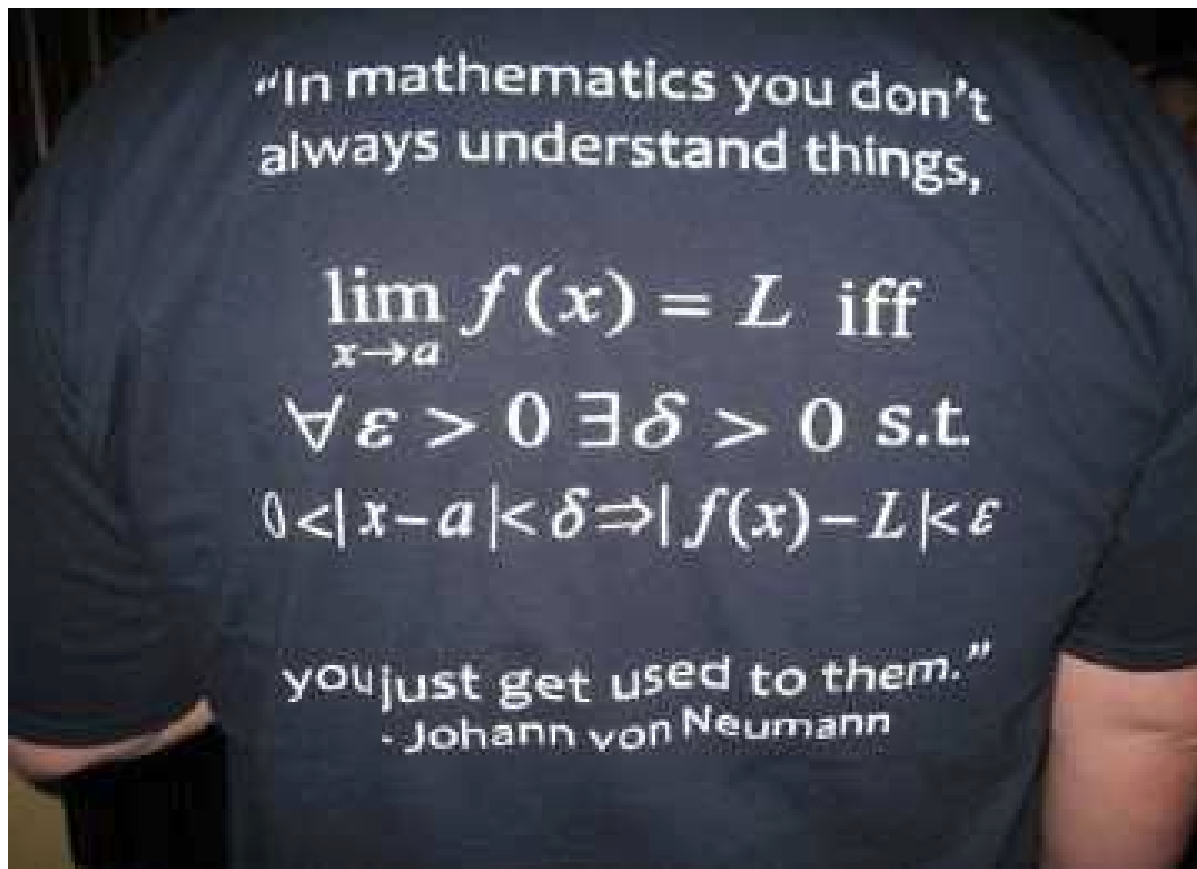
Ако није:

Како функција $f(x)$ нема симетричан домен у односу на $x = 0$ она није ни парна ни непарна!

- $f(x)$ **периодична**:

$$(\exists T > 0)(\forall x \in D_f) f(x) = f(x + T).$$

4. Граничне вредности функције (лимеси) на крајевима домена D_f и асимптоте функције



4. Граничне вредности функције (лимеси) на крајевима домена D_f и асимптоте функције

After explaining to a student through various lessons and examples that:

$$\lim_{x \rightarrow 8} \frac{1}{x-8} = \infty$$

I tried to check if she really understood that, so I gave her a different example.

This was the result:

$$\lim_{x \rightarrow 5} \frac{1}{x-5} = 5$$

Ако је D_f унија интервала облика (a, b) потребно је за сваки од њих одредити:
 $\lim_{x \rightarrow a^+} f(x)$ и $\lim_{x \rightarrow b^-} f(x)$.

Ако је $D_f = \mathbb{R} = (-\infty, +\infty)$ одређујемо:
 $\lim_{x \rightarrow -\infty} f(x)$ и $\lim_{x \rightarrow +\infty} f(x)$.

Ако имамо $(a, b]$ одређујемо:

$\lim_{x \rightarrow a^+} f(x)$ и вредност $f(b)$

(за $x = b$ ф-ја је деф. и ту израчунавамо вредност функције, а не лимес!)

$$C \cdot 0 = 0$$

$$\frac{0}{C} = 0$$

$$\frac{C}{\pm\infty} = 0$$

$$\frac{0}{\pm\infty} = 0$$

$$+C \cdot +\infty = +\infty$$

$$+C \cdot -\infty = -\infty$$

$$-C \cdot +\infty = -\infty$$

$$-C \cdot -\infty = +\infty$$

$$\frac{+C}{0^+} = +\infty$$

$$\frac{+C}{0^-} = -\infty$$

$$\frac{-C}{0^+} = -\infty$$

$$\frac{-C}{0^-} = +\infty$$

$$\frac{+C}{0^+} = +\infty$$

$$\frac{-C}{0^+} = -\infty$$

$$\frac{+C}{0^-} = -\infty$$

$$\frac{-C}{0^-} = +\infty$$

$$\frac{+\infty}{+C} = +\infty$$

$$\frac{-\infty}{+C} = -\infty$$

$$\frac{+\infty}{-C} = -\infty$$

$$\frac{-\infty}{-C} = +\infty$$

$$\frac{+\infty}{0^+} = +\infty$$

$$\frac{-\infty}{0^+} = -\infty$$

$$\frac{+\infty}{0^-} = -\infty$$

$$\frac{-\infty}{0^-} = +\infty$$

| | |
|--------------------------------|--------------------------------|
| $\frac{+\infty}{+C} = +\infty$ | $\frac{+\infty}{-C} = -\infty$ |
| $\frac{-\infty}{+C} = -\infty$ | $\frac{-\infty}{-C} = +\infty$ |

| | |
|---------------------------------|---------------------------------|
| $\frac{+\infty}{0^+} = +\infty$ | $\frac{+\infty}{0^-} = -\infty$ |
| $\frac{-\infty}{0^+} = -\infty$ | $\frac{-\infty}{0^-} = +\infty$ |

$$e^{+\infty} = +\infty$$

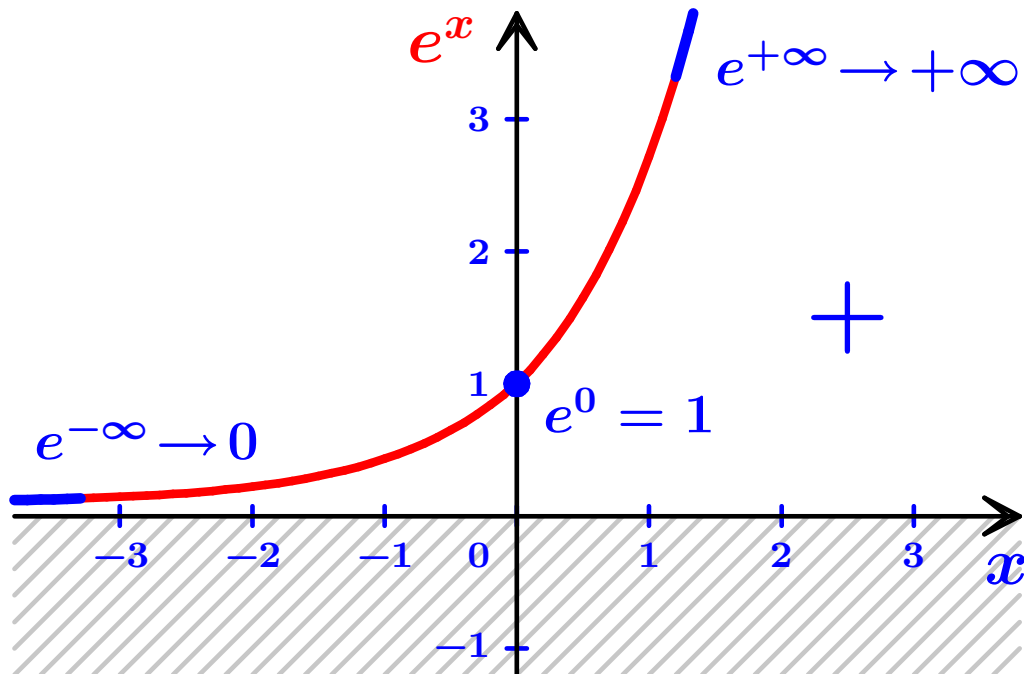
$$e^{-\infty} = 0$$

$$\ln(0^+) = -\infty$$

$$\ln(+\infty) = +\infty$$

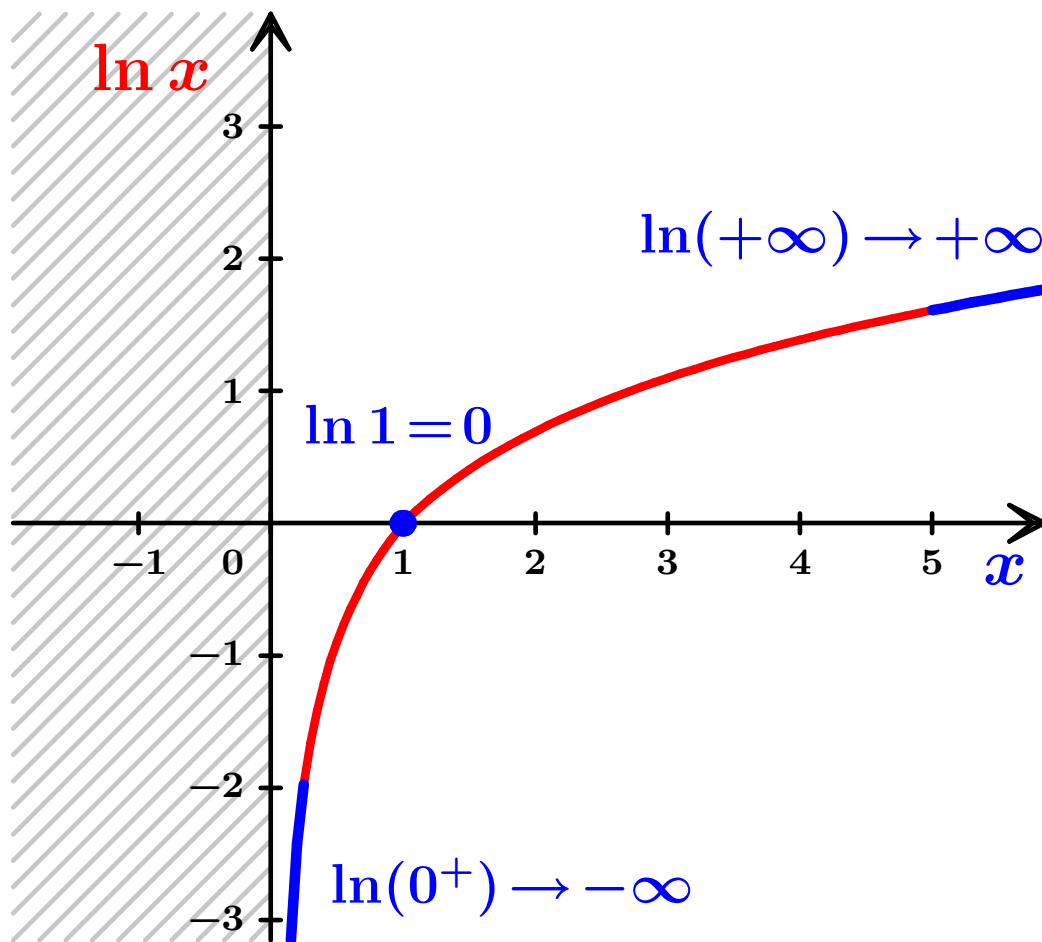
$$e^{+\infty} = +\infty$$

$$e^{-\infty} = 0$$



$$\ln(0^+) = -\infty$$

$$\ln(+\infty) = +\infty$$



$$e^{+\infty} = +\infty$$

$$e^{-\infty} = 0$$

$$\ln(0^+) = -\infty$$

$$\ln(+\infty) = +\infty$$

$$\frac{0}{0} = ???$$

$$\frac{\pm\infty}{\pm\infty} = ???$$

$$0 \cdot \pm\infty = ???$$

$$1^\infty = ???$$

$$0^0 = ???$$

$$\frac{0}{0} = ???$$

$$\frac{\pm\infty}{\pm\infty} = ???$$

$$0 \cdot \pm\infty = ???$$

$$1^\infty = ???$$

$$0^0 = ???$$

За прва два \lim користимо и Лопиталово правило (само за лимесе облика $\frac{0}{0}$ или $\frac{\infty}{\infty}$!) $\begin{smallmatrix} \text{Л.П.} \\ \hline \frac{0}{0} \end{smallmatrix}$ $\begin{smallmatrix} \text{Л.П.} \\ \hline \frac{\infty}{\infty} \end{smallmatrix}$:

$$\lim_{x \rightarrow a} \frac{g(x)}{h(x)} = \lim_{x \rightarrow a} \frac{g'(x)}{h'(x)}.$$

Кад имамо $g \cdot h$ облика $0 \cdot \infty$ то сводимо на $\frac{g}{\frac{1}{h}} = \frac{g}{h^{-1}}$ (што је $\frac{0}{0}$) или $\frac{h}{\frac{1}{g}} = \frac{h}{g^{-1}}$ (што је $\frac{\infty}{\infty}$).

Један од ова два свођења води ка решењу, док други даје још сложенији лимес!


Табличне граничне вредности:

$$\lim_{x \rightarrow 0} \frac{\sin x}{x} = 1, \quad \lim_{x \rightarrow 0} \frac{e^x - 1}{x} = 1,$$

$$\lim_{x \rightarrow 0} \frac{\ln(1 + x)}{x} = 1, \quad \lim_{x \rightarrow 0} \frac{(1 + x)^\alpha - 1}{x} = \alpha,$$

$$\lim_{x \rightarrow +\infty} \left(1 + \frac{1}{x}\right)^x = e, \quad \lim_{x \rightarrow 0} (1 + x)^{\frac{1}{x}} = e.$$

Постоје три врсте асимптота:
вертикалне, хоризонталне и косе.



Вертикалне асимптоте се јављају кад имамо прекид у домену D_f .

Права $x = a$ је *вертикална асимптота* ако

- a не припада D_f ,
- бар један од лимеса $\lim_{x \rightarrow a^+} f(x)$ и $\lim_{x \rightarrow a^-} f(x)$ постоји и бесконачан је ($+\infty$ или $-\infty$).

Ако је $\lim_{x \rightarrow -\infty} f(x) = b$, где је b коначан број,
тада је $y = b$ *лева хоризонтална асимптота*.

Ако је $\lim_{x \rightarrow +\infty} f(x) = b$, где је b коначан број,
тада је $y = b$ *десна хоризонтална асимптота*.

Ако је права $y = b$ и лева и десна
хоризонтална асимптота, онда је *обострана
хоризонтална асимптота*.

Уколико је $\lim_{x \rightarrow -\infty} f(x)$ бесконачан,
тада тражимо леву косу асимптоту.

Ако постоје 2 lim:

$k = \lim_{x \rightarrow -\infty} \frac{f(x)}{x}$ – ако је k коначан и $k \neq 0$,

онда тражимо $n = \lim_{x \rightarrow -\infty} f(x) - k \cdot x$ и ако је
 n коначан тада је *лева коса асимптота*
права $y = kx + n$.

$\lim_{x \rightarrow +\infty} -||- \Rightarrow$ *десна коса асимптота*.

Ако је $y = kx + n$ и лева и десна коса асимпто-
та, онда је *обострана коса асимптота*.

Понекад се за одређивање хоризонталних и косих асимптота могу искористити Тејлорови (тј. Маклоренови) развоји:

WHAT OTHER PEOPLE THINK
WHEN THEY HEAR "TAYLOR"



WHAT WE THINK WHEN WE HEAR
"TAYLOR"

$$\log(1+x) = x - \frac{x^2}{2} + \frac{x^3}{3} - \frac{x^4}{4} + \dots + (-1)^{n-1} \frac{x^n}{n} + \dots$$

for $-1 < x \leq 1$.

$$e^x = 1 + \frac{x}{1!} + \frac{x^2}{2!} + \dots + \frac{x^n}{n!} + \dots$$

$$\sin x = x - \frac{x^3}{3!} + \frac{x^5}{5!} - \dots + (-1)^n \frac{x^{2n+1}}{(2n+1)!} + \dots$$

$$\cos x = 1 - \frac{x^2}{2!} + \frac{x^4}{4!} - \dots + (-1)^n \frac{x^{2n}}{(2n)!} + \dots$$

$$\sinh x = x + \frac{x^3}{3!} + \frac{x^5}{5!} + \dots + \frac{x^{2n+1}}{(2n+1)!} + \dots$$


$$\cosh x = 1 + \frac{x^2}{2!} + \frac{x^4}{4!} + \dots + \frac{x^{2n}}{(2n)!} + \dots$$

$$\tan x = \sum_{n=1}^{\infty} (-1)^{n-1} \frac{2^{2n}(2^{2n}-1)B_{2n}}{(2n)!} x^{2n-1} \quad \text{for } -\frac{\pi}{2} < x < \frac{\pi}{2}$$


$$x \cot x = \sum_{n=1}^{\infty} (-1)^n \frac{2^{2n} B_{2n}}{(2n)!} x^{2n} \quad \text{for } -\pi < x < \pi,$$

for all
values
of x .

5. Први извод, монотоност и локални екстрими функције

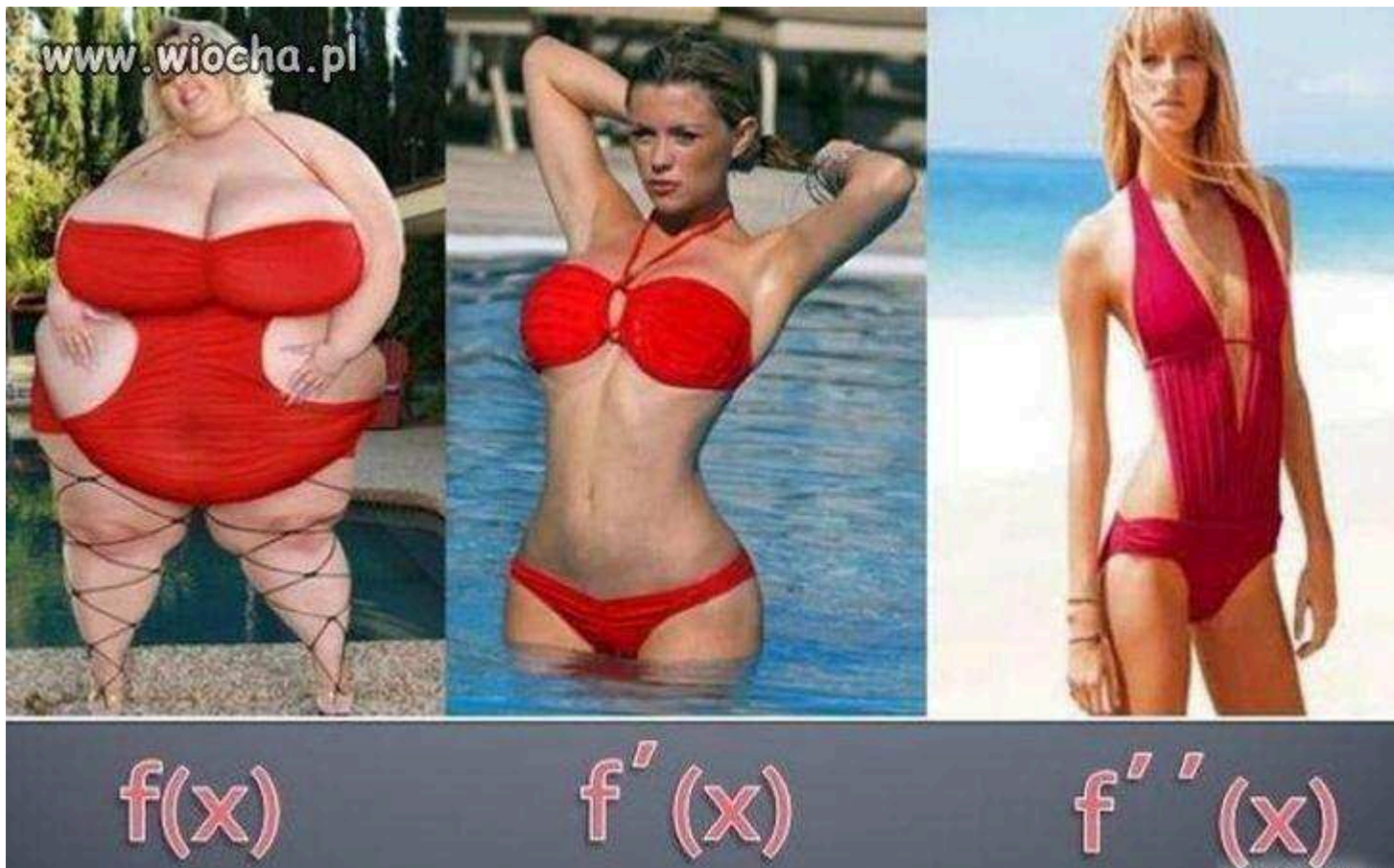
Функција је *монотono растућа* на (a, b) , што означавамо стрелицом , ако

$$(\forall x_1, x_2 \in (a, b)) \quad x_1 < x_2 \Rightarrow f(x_1) < f(x_2).$$

Функција је *монотono опадајућа* на (a, b) , што означавамо стрелицом , ако

$$(\forall x_1, x_2 \in (a, b)) \quad x_1 < x_2 \Rightarrow f(x_1) > f(x_2).$$

5. Први извод, монотоност и локални екстрими функције



5. Први извод, монотоност и локални екстрими функције

Према правилима диференцирања се одреди I извод $f'(x)$ функције $f(x)$.

Даља анализа се своди на одређивање нула и знака I извода:

када је $f'(x_M) = 0$ и $x_M \in D$ имамо кандидата за локални екстрем (max или min).

на инт. где је $f'(x) > 0 \Rightarrow f(x) \nearrow$,

на инт. где је $f'(x) < 0 \Rightarrow f(x) \searrow$,

кандидат $x_M = a$ је лок. max ако је $f: \nearrow a \searrow$
(да је max могло и на основу $f''(a) > 0$)

кандидат $x_M = a$ је лок. min ако је $f: \searrow a \nearrow$
(да је min могло и на основу $f''(a) < 0$)



када је $f'(x_M) = 0$ и $x_M \in D$ имамо кандидата за локални екстрем (max или min).



на инт. где је $f'(x) > 0 \Rightarrow f(x) \nearrow$,

на инт. где је $f'(x) < 0 \Rightarrow f(x) \searrow$,

кандидат $x_M = a$ је лок.max ако је $f: \nearrow a \searrow$
(да је max могло и на основу $f''(a) > 0$)

кандидат $x_M = a$ је лок.min ако је $f: \searrow a \nearrow$
(да је min могло и на основу $f''(a) < 0$)

До екстрема можемо доћи и када имамо шпиге ( или ), као и кад је f -ја деф. у тачки и само са 1 њене стране.

Остала два случаја ( и ) нису екстрими.

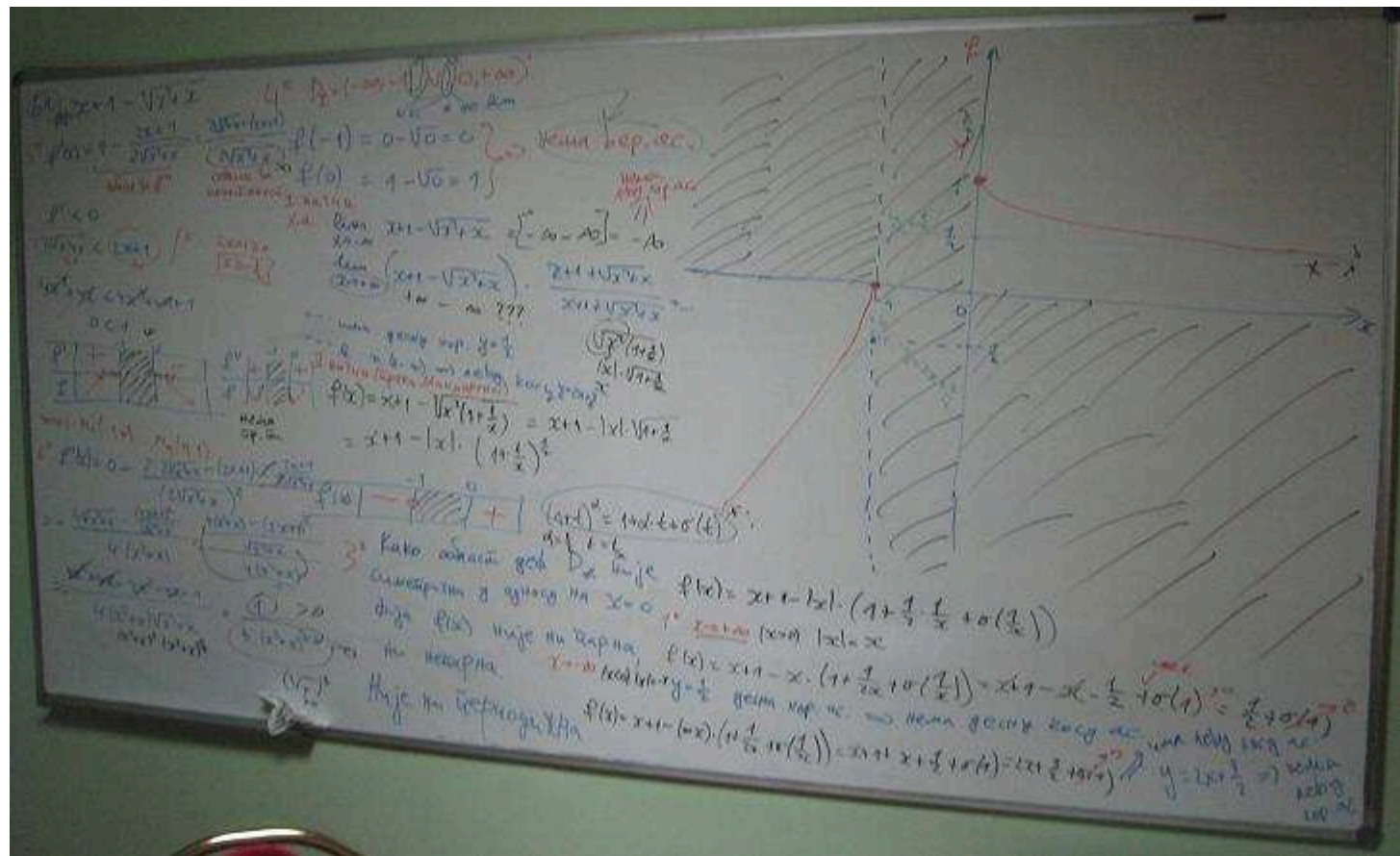
Ако смо добили екстрем тад треба израчунати вредност функције, $f(a)$, и тачку $M(a, f(a))$ означавамо на графику.

Код прекида и шпицева, треба испитати и начин како (тј. под којим углом) функција „улази“ у неку тачку или „излази“ из ње.

Нпр. када у прекиду $x = a$ имамо да је $\lim_{x \rightarrow a^-} f(x) = b$ коначан, онда је коефицијент правца k под којим график улази у тачку $T(a, b)$ дат са $k = \lim_{x \rightarrow a^-} f'(x)$.

Коефицијент n (пресек праве са y -осом) добијамо из једнакости $b = k \cdot a + n$.

$$f(x) = x + 1 - \sqrt{x^2 + x}$$



6. Други извод, конвексност и превојне тачке функције

Функција је *конвексна* (или *конвексна надоле*) на (a, b) , што означавамо \cup , ако $(x_1, x_2 \in (a, b))$

$$x_1 \neq x_2 \Rightarrow \frac{f(x_1) + f(x_2)}{2} > f\left(\frac{x_1 + x_2}{2}\right).$$

Функција је *конкавна* (или *конвексна нагоре*) на (a, b) , што означавамо \cap , ако $(x_1, x_2 \in (a, b))$

$$x_1 \neq x_2 \Rightarrow \frac{f(x_1) + f(x_2)}{2} < f\left(\frac{x_1 + x_2}{2}\right).$$

6. Други извод, конвексност и превојне тачке функције

Израчунамо II извод $f''(x) = (f'(x))'$.

Даља анализа се своди на одређивање нула и знака II извода:

за $f''(x) = 0$ имамо кандидата за превојну тачку.

на инт. $f''(x) > 0 \Rightarrow f(x) \cup$ (конвексна),

на инт. $f''(x) < 0 \Rightarrow f(x) \cap$ (конкавна),

кандидат $x_M = a$ је превојна тачка ако је f :

$\cup a \cap$ или $\cap a \cup$

И код п.т. одређујемо вредност функције, $f(a)$, и тачку $P(a, f(a))$ означавамо на графику.

Напомена. Погрешно је рећи да је функција конвексна на унији интервала (тј. тамо где је $f''(x) > 0$), јер је она конвексна на сваком од тих интервала понаособ!

Слично важи и за монотоност.

Стога, је монотоност и конвексност боље само записивати у табlici.

⇒ Скицирање графика функције.

Све претходно добијене тачке (нуле функције, пресек са y -осом, минимуми, максимуми, превојне тачке), као и граничне вредности су већ унете на график, тако да остаје само последњи корак:

„Спојити тачкице и цртице, али водити рачуна о монотоности и конвексности!“

1. Испитати ток и скицирати график функције

$$f(x) = \frac{(x - 2)^2}{\ln(x - 2)} .$$

1. $f(x) = \frac{(x-2)^2}{\ln(x-2)}.$

Решење.

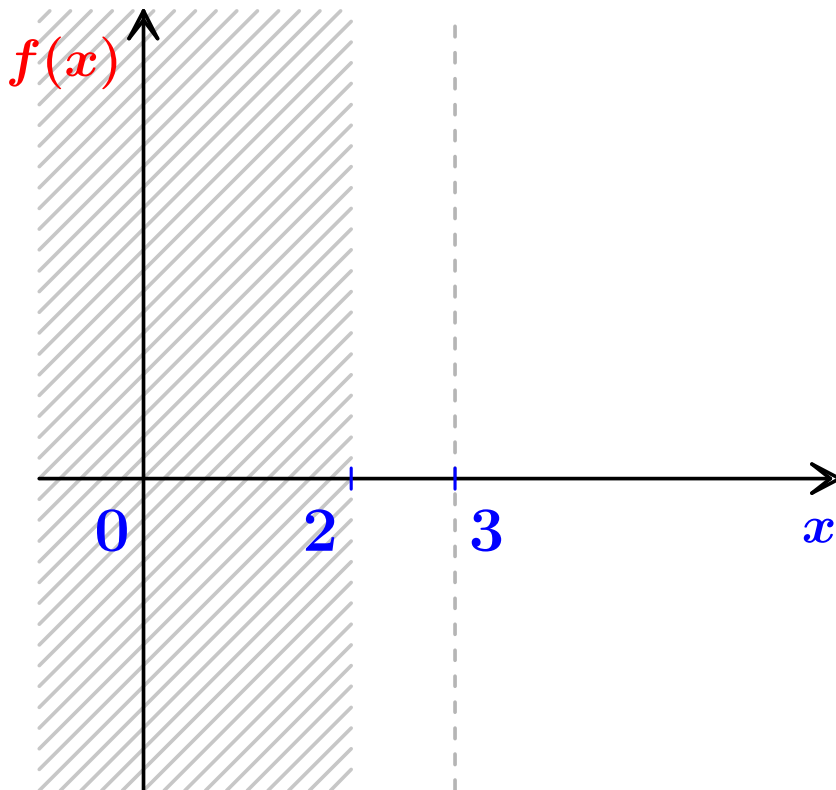
1° Разломак је деф. када су и именилац и бројилац деф. и кад је именилац $\neq 0$:

- полином $(x-2)^2$ је **увек деф**;
- лог. $\ln(x-2)$ је деф. за $x-2 > 0$, тј. $x > 2$;
- $\ln(x-2) \neq 0 = \ln 1$, па је $x-2 \neq 1$, тј. $x \neq 3$.

Област дефинисаности је: $D_f = (2, 3) \cup (3, +\infty)$.

1. $f(x) = \frac{(x-2)^2}{\ln(x-2)}$.

Решение. 1° Домен је: $D_f = (2, 3) \cup (3, +\infty)$.



1. $f(x) = \frac{(x-2)^2}{\ln(x-2)}.$

Решение. 2° Нуле:

$$f(x) = \frac{(x-2)^2}{\ln(x-2)} = 0 \Rightarrow (x-2)^2 = 0 \Rightarrow x-2 = 0 \\ \Rightarrow x = 2$$

1. $f(x) = \frac{(x-2)^2}{\ln(x-2)}$.

Решење. 2° Нуле:

$$f(x) = \frac{(x-2)^2}{\ln(x-2)} = 0 \Rightarrow (x-2)^2 = 0 \Rightarrow x-2 = 0$$

$\Rightarrow x = 2 \notin D_f$, па није нула!

1. $f(x) = \frac{(x-2)^2}{\ln(x-2)}$.

Решење. 2° Нуле:

$$f(x) = \frac{(x-2)^2}{\ln(x-2)} = 0 \Rightarrow (x-2)^2 = 0 \Rightarrow x-2 = 0$$

$\Rightarrow x = 2 \notin D_f$, па није нула!

$0 \notin D_f \Rightarrow$ нема пресек са y -осом!

1. $f(x) = \frac{(x-2)^2}{\ln(x-2)}$.

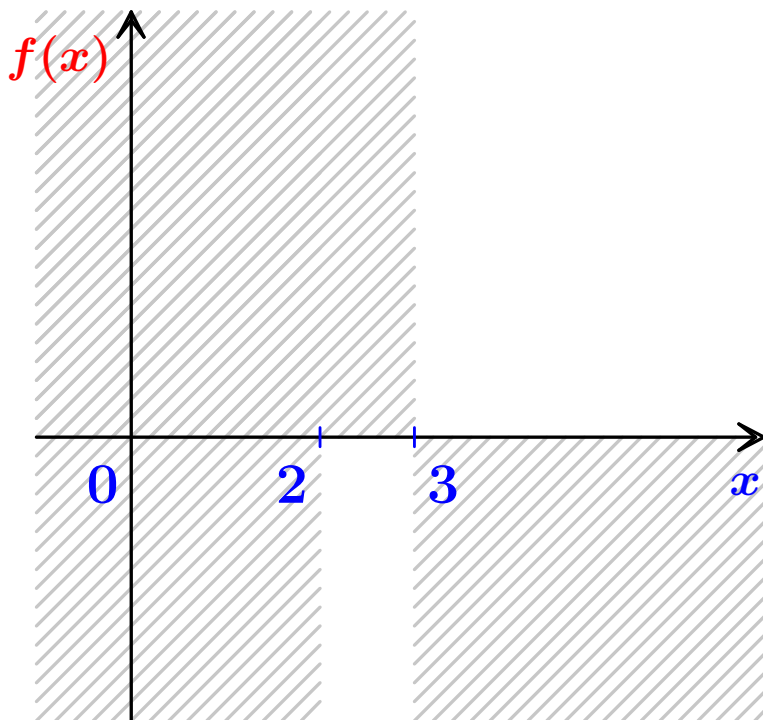
Решение. 2° Знак:

| | $(-\infty, 2]$ | $(2, 3)$ | 3 | $(3, +\infty)$ |
|------------|----------------|----------|---|----------------|
| $(x-2)^2$ | x | + | + | + |
| $\ln(x-2)$ | x | — | x | + |
| $f(x)$ | x | — | x | + |

$$1. f(x) = \frac{(x-2)^2}{\ln(x-2)}.$$

Решение. 2° Знак:

| | $(-\infty, 2]$ | $(2, 3)$ | 3 | $(3, +\infty)$ |
|------------|----------------|----------|-----|----------------|
| $(x-2)^2$ | x | + | + | + |
| $\ln(x-2)$ | x | - | x | + |
| $f(x)$ | x | - | x | + |



1. $f(x) = \frac{(x-2)^2}{\ln(x-2)}.$

Решење. 3°

Како $D_f = (2, 3) \cup (3, +\infty)$ није симетричан у односу на $x = 0$, ф-ја $f(x)$ није ни парна, ни непарна.

Негативне вредности ф-је (за $x \in (2, 3)$) се не понављају периодично, па функција $f(x)$ није ни периодична.

1. $f(x) = \frac{(x-2)^2}{\ln(x-2)}.$

Решение.

4° $D_f = (2, 3) \cup (3, +\infty) \Rightarrow$ треба наћи:

$$\lim_{x \rightarrow 2^+} f(x), \quad \lim_{x \rightarrow 3^-} f(x), \quad \lim_{x \rightarrow 3^+} f(x) \quad \text{и} \quad \lim_{x \rightarrow +\infty} f(x).$$

$$1. f(x) = \frac{(x-2)^2}{\ln(x-2)}.$$

Решење.

4° $D_f = (2, 3) \cup (3, +\infty) \Rightarrow$ треба наћи:

$$\lim_{x \rightarrow 2^+} f(x), \quad \lim_{x \rightarrow 3^-} f(x), \quad \lim_{x \rightarrow 3^+} f(x) \quad \text{и} \quad \lim_{x \rightarrow +\infty} f(x).$$

$$\lim_{x \rightarrow 2^+} f(x) = \left[\frac{(2^+ - 2)^2}{\ln(2^+ - 2)} = \frac{(0^+)^2}{\ln(0^+)} = \frac{0^+}{-\infty} \right] = 0$$

$$1. f(x) = \frac{(x-2)^2}{\ln(x-2)}.$$

Решение.

4° $D_f = (2, 3) \cup (3, +\infty) \Rightarrow$ треба наћи:

$$\lim_{x \rightarrow 2^+} f(x), \quad \lim_{x \rightarrow 3^-} f(x), \quad \lim_{x \rightarrow 3^+} f(x) \quad \text{и} \quad \lim_{x \rightarrow +\infty} f(x).$$

$$\lim_{x \rightarrow 2^+} f(x) = \left[\frac{(2^+ - 2)^2}{\ln(2^+ - 2)} = \frac{(0^+)^2}{\ln(0^+)} = \frac{0^+}{-\infty} \right] = 0$$

\lim коначан $\Rightarrow f(x)$ нема верт. асимпт. $x = 2$.

$$1. f(x) = \frac{(x-2)^2}{\ln(x-2)}.$$

Решение.

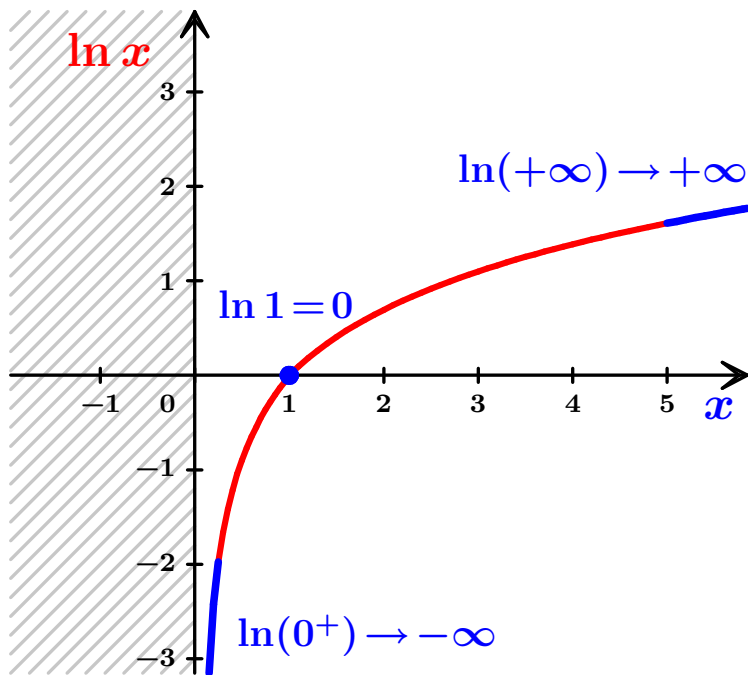
4° $D_f = (2, 3) \cup (3, +\infty) \Rightarrow$ треба наћи:

$$\lim_{x \rightarrow 2^+} f(x), \quad \lim_{x \rightarrow 3^-} f(x), \quad \lim_{x \rightarrow 3^+} f(x) \quad \text{и} \quad \lim_{x \rightarrow +\infty} f(x).$$

$$\lim_{x \rightarrow 3^-} f(x) = \left[\frac{(3^- - 2)^2}{\ln(3^- - 2)} = \frac{(1^-)^2}{\ln(1^-)} = \frac{1}{0^-} \right] = -\infty$$

$$\lim_{x \rightarrow 3^+} f(x) = \left[\frac{(3^+ - 2)^2}{\ln(3^+ - 2)} = \frac{(1^+)^2}{\ln(1^+)} = \frac{1}{0^+} \right] = +\infty$$

$$\lim_{x \rightarrow 3^-} f(x) = \left[\frac{(3^- - 2)^2}{\ln(3^- - 2)} = \frac{(1^-)^2}{\ln(1^-)} = \frac{1}{0^-} \right] = -\infty$$



$$\lim_{x \rightarrow 3^+} f(x) = \left[\frac{(3^+ - 2)^2}{\ln(3^+ - 2)} = \frac{(1^+)^2}{\ln(1^+)} = \frac{1}{0^+} \right] = +\infty$$

$$1. f(x) = \frac{(x-2)^2}{\ln(x-2)}.$$

Решение.

4° $D_f = (2, 3) \cup (3, +\infty) \Rightarrow$ треба наћи:

$$\lim_{x \rightarrow 2^+} f(x), \quad \lim_{x \rightarrow 3^-} f(x), \quad \lim_{x \rightarrow 3^+} f(x) \quad \text{и} \quad \lim_{x \rightarrow +\infty} f(x).$$

$$\lim_{x \rightarrow 3^-} f(x) = \left[\frac{(3^- - 2)^2}{\ln(3^- - 2)} = \frac{(1^-)^2}{\ln(1^-)} = \frac{1}{0^-} \right] = -\infty$$

$$\lim_{x \rightarrow 3^+} f(x) = \left[\frac{(3^+ - 2)^2}{\ln(3^+ - 2)} = \frac{(1^+)^2}{\ln(1^+)} = \frac{1}{0^+} \right] = +\infty$$

$$1. f(x) = \frac{(x-2)^2}{\ln(x-2)}.$$

Решение.

4° $D_f = (2, 3) \cup (3, +\infty) \Rightarrow$ треба наћи:

$$\lim_{x \rightarrow 2^+} f(x), \quad \lim_{x \rightarrow 3^-} f(x), \quad \lim_{x \rightarrow 3^+} f(x) \quad \text{и} \quad \lim_{x \rightarrow +\infty} f(x).$$

$$\lim_{x \rightarrow 3^-} f(x) = \left[\frac{(3^- - 2)^2}{\ln(3^- - 2)} = \frac{(1^-)^2}{\ln(1^-)} = \frac{1}{0^-} \right] = -\infty$$

$$\lim_{x \rightarrow 3^+} f(x) = \left[\frac{(3^+ - 2)^2}{\ln(3^+ - 2)} = \frac{(1^+)^2}{\ln(1^+)} = \frac{1}{0^+} \right] = +\infty$$

\lim бесконачни $\Rightarrow f(x)$ има верт. асимпт. $x = 3$.

$$1. f(x) = \frac{(x-2)^2}{\ln(x-2)}.$$

Решение.

4° $D_f = (2, 3) \cup (3, +\infty) \Rightarrow$ треба наћи:

$$\lim_{x \rightarrow 2^+} f(x), \quad \lim_{x \rightarrow 3^-} f(x), \quad \lim_{x \rightarrow 3^+} f(x) \quad \text{и} \quad \lim_{x \rightarrow +\infty} f(x).$$

$$\lim_{x \rightarrow +\infty} f(x) = \lim_{x \rightarrow +\infty} \frac{(x-2)^2}{\ln(x-2)} \stackrel{\text{Л.П.}}{=} \lim_{x \rightarrow +\infty} \frac{2(x-2) \cdot 1}{\frac{1}{x-2} \cdot 1} =$$

$$\lim_{x \rightarrow +\infty} 2(x-2)^2 = +\infty$$

$$1. f(x) = \frac{(x-2)^2}{\ln(x-2)}.$$

Решение.

4° $D_f = (2, 3) \cup (3, +\infty) \Rightarrow$ треба наћи:

$$\lim_{x \rightarrow 2^+} f(x), \quad \lim_{x \rightarrow 3^-} f(x), \quad \lim_{x \rightarrow 3^+} f(x) \quad \text{и} \quad \lim_{x \rightarrow +\infty} f(x).$$

$$\lim_{x \rightarrow +\infty} f(x) = \lim_{x \rightarrow +\infty} \frac{(x-2)^2}{\ln(x-2)} \stackrel{\text{Л.П.}}{=} \lim_{x \rightarrow +\infty} \frac{2(x-2) \cdot 1}{\frac{1}{x-2} \cdot 1} =$$

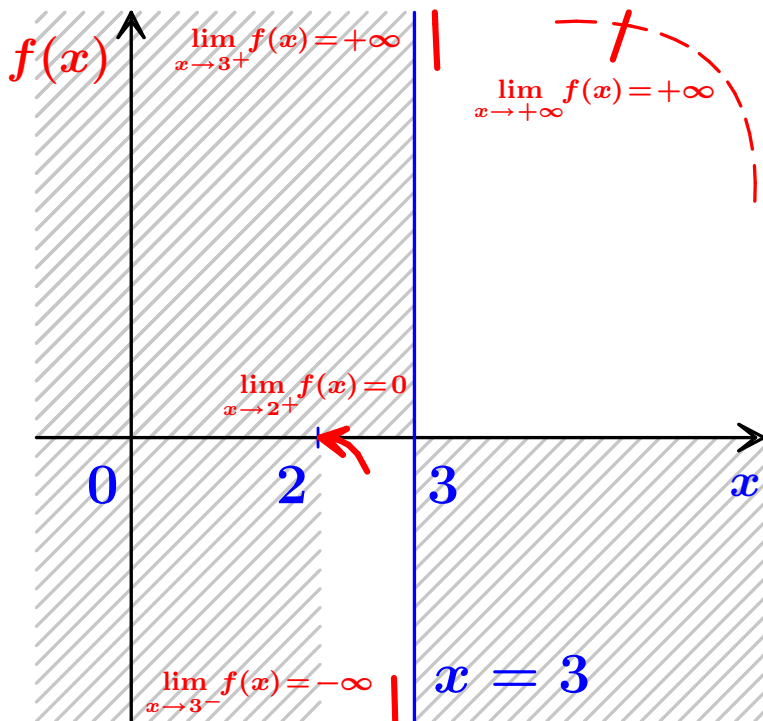
$$\lim_{x \rightarrow +\infty} 2(x-2)^2 = +\infty$$

\lim бесконечан $\Rightarrow f(x)$ нема десну хор. асимпт.

4° $\lim_{x \rightarrow 2^+} f(x) = 0 \Rightarrow f(x)$ нема верт. асимпт. $x = 2$.

$\lim_{x \rightarrow 3^-} f(x) = -\infty, \lim_{x \rightarrow 3^+} f(x) = +\infty \Rightarrow f(x)$ има верт. асимпт. $x = 3$.

$\lim_{x \rightarrow +\infty} f(x) = +\infty \Rightarrow f(x)$ нема десну хор. асимпт.



4° $f(x)$ нема десну хор. ас, па може да има десну косу ас.

$$k = \lim_{x \rightarrow +\infty} \frac{f(x)}{x} = \lim_{x \rightarrow +\infty} \frac{\frac{(x-2)^2}{\ln(x-2)}}{x} = \lim_{x \rightarrow +\infty} \frac{(x-2)^2}{x \ln(x-2)}$$

4° $f(x)$ нема десну хор. ас, па може да има десну косу ас.

$$k = \lim_{x \rightarrow +\infty} \frac{f(x)}{x} = \lim_{x \rightarrow +\infty} \frac{\frac{(x-2)^2}{\ln(x-2)}}{x} = \lim_{x \rightarrow +\infty} \frac{(x-2)^2}{x \ln(x-2)}$$

л.п.
 $\frac{\infty}{\infty}$... МОЖЕ И ТАКО АЛИ КОМПЛИКОВАНИ ИЗВОДИ

4° $f(x)$ нема десну хор. ас, па може да има десну косу ас.

$$\begin{aligned}
 k &= \lim_{x \rightarrow +\infty} \frac{f(x)}{x} = \lim_{x \rightarrow +\infty} \frac{\frac{(x-2)^2}{\ln(x-2)}}{x} = \lim_{x \rightarrow +\infty} \frac{(x-2)^2}{x \ln(x-2)} \\
 &= \lim_{x \rightarrow +\infty} \frac{x-2}{x} \cdot \frac{x-2}{\ln(x-2)} = \lim_{x \rightarrow +\infty} \frac{\cancel{x} \left(1 - \frac{2}{x}\right)}{\cancel{x}} \cdot \frac{x-2}{\ln(x-2)} \\
 &\stackrel{*}{=} \lim_{x \rightarrow +\infty} \left(1 - \frac{2}{x}\right) \cdot \lim_{x \rightarrow +\infty} \frac{x-2}{\ln(x-2)}
 \end{aligned}$$

4° $f(x)$ нема десну хор. ас, па може да има десну косу ас.

$$\begin{aligned} k &= \lim_{x \rightarrow +\infty} \frac{f(x)}{x} = \lim_{x \rightarrow +\infty} \frac{\frac{(x-2)^2}{\ln(x-2)}}{x} = \lim_{x \rightarrow +\infty} \frac{(x-2)^2}{x \ln(x-2)} \\ &= \lim_{x \rightarrow +\infty} \frac{x-2}{x} \cdot \frac{x-2}{\ln(x-2)} = \lim_{x \rightarrow +\infty} \frac{\cancel{x}(1-\frac{2}{x})}{\cancel{x}} \cdot \frac{x-2}{\ln(x-2)} \\ &\stackrel{*}{=} \lim_{x \rightarrow +\infty} (1 - \frac{2}{x}) \cdot \lim_{x \rightarrow +\infty} \frac{x-2}{\ln(x-2)} = 1 \cdot \lim_{x \rightarrow +\infty} \frac{x-2}{\ln(x-2)} \end{aligned}$$

* може када је бар један од ова 2 лимеса коначан број $\neq 0$ (1)

4° $f(x)$ нема десну хор. ас, па може да има десну косу ас.

$$\begin{aligned}
 k &= \lim_{x \rightarrow +\infty} \frac{f(x)}{x} = \lim_{x \rightarrow +\infty} \frac{\frac{(x-2)^2}{\ln(x-2)}}{x} = \lim_{x \rightarrow +\infty} \frac{(x-2)^2}{x \ln(x-2)} \\
 &= \lim_{x \rightarrow +\infty} \frac{x-2}{x} \cdot \frac{x-2}{\ln(x-2)} = \lim_{x \rightarrow +\infty} \frac{\cancel{x}(1-\frac{2}{x})}{\cancel{x}} \cdot \frac{x-2}{\ln(x-2)} \\
 &\stackrel{*}{=} \lim_{x \rightarrow +\infty} \left(1 - \frac{2}{x}\right) \cdot \lim_{x \rightarrow +\infty} \frac{x-2}{\ln(x-2)} = 1 \cdot \lim_{x \rightarrow +\infty} \frac{x-2}{\ln(x-2)} \\
 &\stackrel{\text{Л.П.}}{=} \lim_{x \rightarrow +\infty} \frac{1}{\frac{1}{x-2}} = \lim_{x \rightarrow +\infty} x - 2 = +\infty.
 \end{aligned}$$

* може када је бар један од ова 2 лимеса коначан број $\neq 0$ (1)

4° $f(x)$ нема десну хор. ас, па може да има десну косу ас.

$$\begin{aligned}
 k &= \lim_{x \rightarrow +\infty} \frac{f(x)}{x} = \lim_{x \rightarrow +\infty} \frac{\frac{(x-2)^2}{\ln(x-2)}}{x} = \lim_{x \rightarrow +\infty} \frac{(x-2)^2}{x \ln(x-2)} \\
 &= \lim_{x \rightarrow +\infty} \frac{x-2}{x} \cdot \frac{x-2}{\ln(x-2)} = \lim_{x \rightarrow +\infty} \frac{\cancel{x}(1-\frac{2}{x})}{\cancel{x}} \cdot \frac{x-2}{\ln(x-2)} \\
 &\stackrel{*}{=} \lim_{x \rightarrow +\infty} \left(1 - \frac{2}{x}\right) \cdot \lim_{x \rightarrow +\infty} \frac{x-2}{\ln(x-2)} = 1 \cdot \lim_{x \rightarrow +\infty} \frac{x-2}{\ln(x-2)} \\
 &\stackrel{\text{Л.П.}}{=} \lim_{x \rightarrow +\infty} \frac{1}{\frac{1}{x-2}} = \lim_{x \rightarrow +\infty} x - 2 = +\infty.
 \end{aligned}$$

\lim **бесконачан** $\Rightarrow f(x)$ **нема** ни **десну косу ас**.

4° $f(x)$ нема десну хор. ас, па може да има десну косу ас.

$$\begin{aligned}
 k &= \lim_{x \rightarrow +\infty} \frac{f(x)}{x} = \lim_{x \rightarrow +\infty} \frac{\frac{(x-2)^2}{\ln(x-2)}}{x} = \lim_{x \rightarrow +\infty} \frac{(x-2)^2}{x \ln(x-2)} \\
 &= \lim_{x \rightarrow +\infty} \frac{x-2}{x} \cdot \frac{x-2}{\ln(x-2)} = \lim_{x \rightarrow +\infty} \frac{\cancel{x}(1-\frac{2}{x})}{\cancel{x}} \cdot \frac{x-2}{\ln(x-2)} \\
 &\stackrel{*}{=} \lim_{x \rightarrow +\infty} \left(1 - \frac{2}{x}\right) \cdot \lim_{x \rightarrow +\infty} \frac{x-2}{\ln(x-2)} = 1 \cdot \lim_{x \rightarrow +\infty} \frac{x-2}{\ln(x-2)} \\
 &\stackrel{\text{Л.П.}}{=} \lim_{x \rightarrow +\infty} \frac{1}{\frac{1}{x-2}} = \lim_{x \rightarrow +\infty} x - 2 = +\infty.
 \end{aligned}$$

\lim бесконачан $\Rightarrow f(x)$ нема ни десну косу ас.

$-\infty \notin D_f \Rightarrow$ нема ни леву хор. ас ни леву косу ас.

$$5^\circ \quad f'(x) = \frac{(2 \ln(x - 2) - 1) \cdot (x - 2)}{\ln^2(x - 2)}.$$

$$f'(x) = 0 \Rightarrow (2 \ln(x - 2) - 1) \cdot (x - 2) = 0.$$

$$x \neq 2 \text{ (jer } 2 \notin D_f), \text{ па је } 2 \ln(x - 2) - 1 = 0.$$

$$\text{Из } \ln(x - 2) = \frac{1}{2} = \ln e^{\frac{1}{2}} \Rightarrow x - 2 = e^{\frac{1}{2}} = \sqrt{e},$$

па је једина нула I извода $x = \sqrt{e} + 2$.

5°
f'(x) = \frac{(2 \ln(x - 2) - 1) \cdot (x - 2)}{\ln^2(x - 2)}.

| | $(-\infty, 2]$ | $(2, 3)$ | 3 | $(3, \sqrt{e} + 2)$ | $\sqrt{e} + 2$ | $(\sqrt{e} + 2, +\infty)$ |
|--------------------|----------------|----------|-----|---------------------|--------------------|---------------------------|
| $2 \ln(x - 2) - 1$ | x | − | − | − | 0 | + |
| $x - 2$ | x | + | + | + | + | + |
| $\ln^2(x - 2)$ | x | + | x | + | + | + |
| $f'(x)$ | x | − | x | − | 0 | + |
| $f(x)$ | x | ↘ | x | ↘ | <div> M min </div> | ↗ |

5°
f'(x) = \frac{(2 \ln(x - 2) - 1) \cdot (x - 2)}{\ln^2(x - 2)}.

| | $(-\infty, 2]$ | $(2, 3)$ | 3 | $(3, \sqrt{e} + 2)$ | $\sqrt{e} + 2$ | $(\sqrt{e} + 2, +\infty)$ |
|--------------------|----------------|----------|---|---------------------|--------------------|---------------------------|
| $2 \ln(x - 2) - 1$ | x | − | − | − | 0 | + |
| $x - 2$ | x | + | + | + | + | + |
| $\ln^2(x - 2)$ | x | + | x | + | + | + |
| $f'(x)$ | x | − | x | − | 0 | + |
| $f(x)$ | x | ↘ | x | ↘ | <div> M min </div> | ↗ |

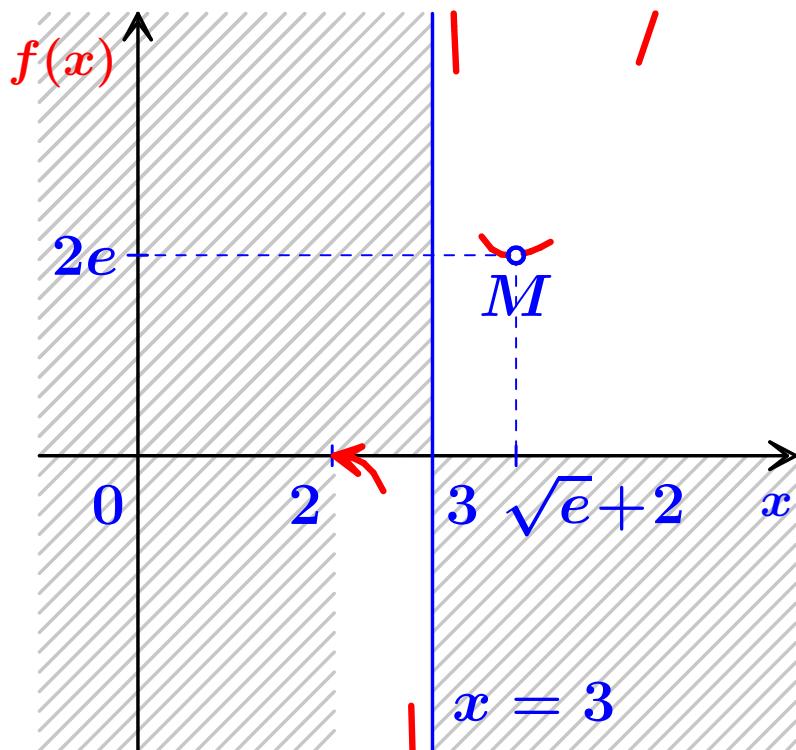
f(\sqrt{e} + 2) = f(e^{\frac{1}{2}} + 2) = \frac{(e^{\frac{1}{2}} + 2 - 2)^2}{\ln(e^{\frac{1}{2}} + 2 - 2)} = \frac{(e^{\frac{1}{2}})^2}{\ln(e^{\frac{1}{2}})} = 2e.

min
je
M(\sqrt{e} + 2, 2e).

$$5^\circ \quad f'(x) = \frac{(2 \ln(x-2) - 1) \cdot (x-2)}{\ln^2(x-2)}.$$

| | | | | | | |
|--------|----------------|------------|---|-------------------|--------------|-------------------------|
| | $(-\infty, 2]$ | $(2, 3)$ | 3 | $(3, \sqrt{e}+2)$ | $\sqrt{e}+2$ | $(\sqrt{e}+2, +\infty)$ |
| $f(x)$ | x | \searrow | x | \searrow | M min | \nearrow |

min je $M(\sqrt{e} + 2, 2e)$.



$$6^\circ \quad f''(x) = \frac{2 \ln^2(x-2) - 3 \ln(x-2) + 2}{\ln^3(x-2)}.$$

Уведимо смену $t = \ln(x-2)$: $2t^2 - 3t + 2$, чија је дискриминанта $D = (-3)^2 - 4 \cdot 2 \cdot 2 = -7 < 0$, па нема реалних нула. Како је коефицијент уз t^2 , $a = 2 > 0$ добијамо да је увек $2t^2 - 3t + 2 > 0$, па је и $2 \ln^2(x-2) - 3 \ln(x-2) + 2 > 0$.

6°
f''(x) =
\frac{2 \ln^2(x - 2) - 3 \ln(x - 2) + 2}{\ln^3(x - 2)}
.

| | $(-\infty, 2]$ | $(2, 3)$ | 3 | $(3, +\infty)$ |
|-------------------------------------|----------------|----------|-----|----------------|
| $2 \ln^2(x - 2) - 3 \ln(x - 2) + 2$ | x | + | + | + |
| $\ln^3(x - 2)$ | x | − | x | + |
| $f''(x)$ | x | − | x | + |
| $f(x)$ | x | ∩ | x | ∪ |

$$6^\circ \quad f''(x) = \frac{2 \ln^2(x-2) - 3 \ln(x-2) + 2}{\ln^3(x-2)}.$$

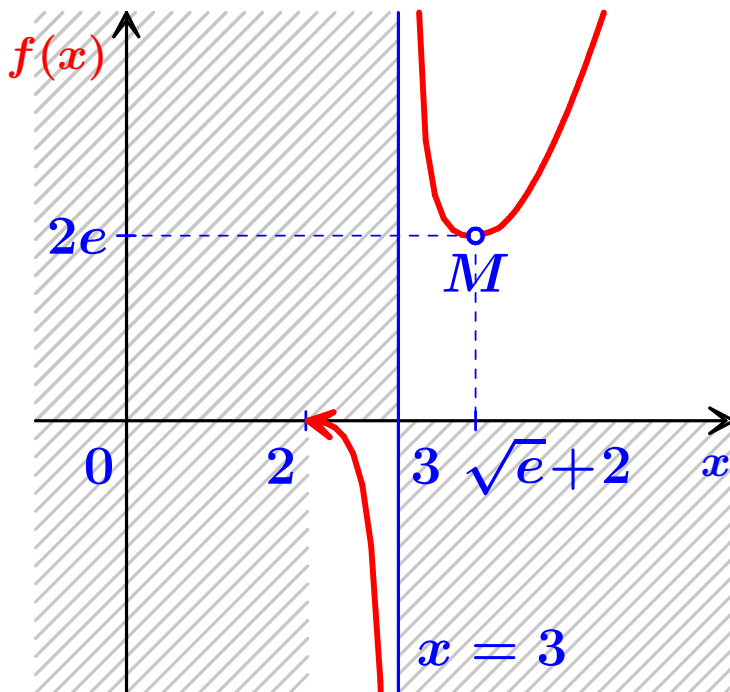
| | $(-\infty, 2]$ | $(2, 3)$ | 3 | $(3, +\infty)$ |
|---------------------------------|----------------|----------|----------|----------------|
| $2 \ln^2(x-2) - 3 \ln(x-2) + 2$ | x | + | + | + |
| $\ln^3(x-2)$ | x | − | x | + |
| $f''(x)$ | x | − | x | + |
| $f(x)$ | x | \cap | x | \cup |

Превојних тачака **нема** (јер $3 \notin D_f$).

$$6^\circ \quad f''(x) = \frac{2 \ln(x-2)^2 - 3 \ln(x-2) + 2}{\ln^3(x-2)}.$$

| | | | | |
|--------|----------------|----------|----------|----------------|
| | $(-\infty, 2]$ | $(2, 3)$ | 3 | $(3, +\infty)$ |
| $f(x)$ | \times | \cap | \times | \cup |

Превојних тачака **нема** (јер $3 \notin D_f$).



2. $f(x) = (3x - 1)e^{2/x}$.

2. $f(x) = (3x - 1)e^{2/x}$.

1° $D_f = (-\infty, 0) \cup (0, +\infty)$.

2° Нула је $x = \frac{1}{3}$. Знак: $- \mathbf{0} - \boxed{\frac{1}{3}} +$.

Пресек са y -осом **нема**.

3° Није ни парна, ни непарна, ни периодична.

4° Косу асимптоту можемо добити и користећи
Маклоренов развој: $x \rightarrow \pm\infty \Rightarrow \frac{2}{x} \rightarrow 0$

$$f(x) = (3x - 1)e^{2/x} = (3x - 1) \cdot \left(1 + \frac{2}{x} + o\left(\frac{1}{x}\right)\right) =$$

2. $f(x) = (3x - 1)e^{2/x}$.

4° Косу асимптоту можемо добити и користећи
Маклоренов развој: $x \rightarrow \pm\infty \Rightarrow \frac{2}{x} \rightarrow 0$

$$f(x) = (3x - 1)e^{2/x} = (3x - 1) \cdot \left(1 + \frac{2}{x} + o\left(\frac{1}{x}\right)\right) =$$

$$3x - 1 + 6 - \underbrace{\frac{2}{x}}_{\rightarrow 0} + o(1) = 3x + 5 + o(1).$$

$y = 3x + 5$ је обострана коса ас. \Rightarrow нема хор.ас.

5° $f'(x) = \frac{3x^2 - 6x + 2}{x^2} e^{2/x}$.

2. $f(x) = (3x - 1)e^{2/x}$.

5° $f'(x) = \frac{3x^2 - 6x + 2}{x^2} e^{2/x}$. МоноTONост:

↗ 0 ↗ $\boxed{1 - \frac{1}{\sqrt{3}}}$ ↘ $\boxed{1 + \frac{1}{\sqrt{3}}}$ ↗ .

Лок.маx је $M_1(1 - \frac{1}{\sqrt{3}}, (2 - \sqrt{3})e^{3+\sqrt{3}})$.

Лок.мин је $M_2(1 + \frac{1}{\sqrt{3}}, (2 + \sqrt{3})e^{3-\sqrt{3}})$.

$\lim_{x \rightarrow 0^-} f'(x) = 0 \Rightarrow$ график функције улази
хоризонтално ($k = 0$ код $y = k \cdot x + n$) у нулу.

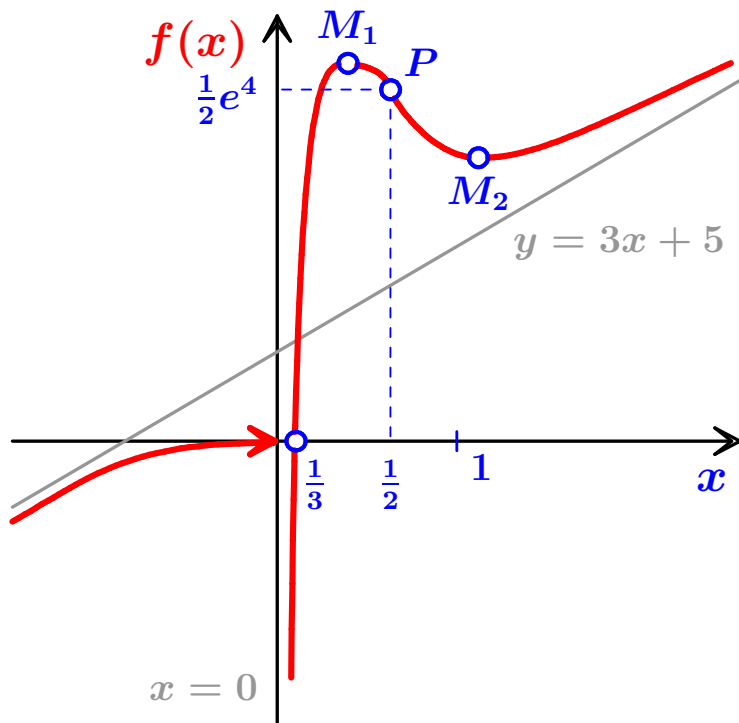
6° $f''(x) = \frac{8x - 4}{x^4} e^{2/x}$.

2. $f(x) = (3x - 1)e^{2/x}$.

6° $f''(x) = \frac{8x - 4}{x^4} e^{2/x}$. Конвексност:

$x < 0$ \cup $\left[\frac{1}{2}, \infty \right)$.

Превојна тачка је $P\left(\frac{1}{2}, \frac{1}{2}e^4\right)$.



3. $f(x) = e^{\frac{1}{x}} - x.$

3. $f(x) = e^{\frac{1}{x}} - x$.

1° $D_f = (-\infty, 0) \cup (0, +\infty)$.

3° Није ни парна, ни непарна, ни периодична.

4° $\lim_{x \rightarrow -\infty} f(x) = +\infty$, $\lim_{x \rightarrow +\infty} f(x) = -\infty$,

$\lim_{x \rightarrow 0^-} f(x) = 0$, $\lim_{x \rightarrow 0^+} f(x) = +\infty \Rightarrow$

Вертикална ас. $x = 0$, нема хоризонталних ас,
обострана коса ас. је $y = -x + 1$.

5° $f' = -\left(\frac{e^{\frac{1}{x}}}{x^2} + 1\right)$. Монотоност: \searrow **0** \searrow .

Нема локалних екстрема.

3. $f(x) = e^{\frac{1}{x}} - x$.

5° $f' = -\left(\frac{e^{\frac{1}{x}}}{x^2} + 1\right)$. МоноTONост: ↘ 0 ↘.

Нема локалних екстрема.

2° Како је $f(1) = e - 1 > 0$ и $f(2) = \sqrt{e} - 2 < 0 \Rightarrow$ има нулу $x = \alpha \in (1, 2)$.

Нумерички се може добити $\alpha \approx 1.763222834$.

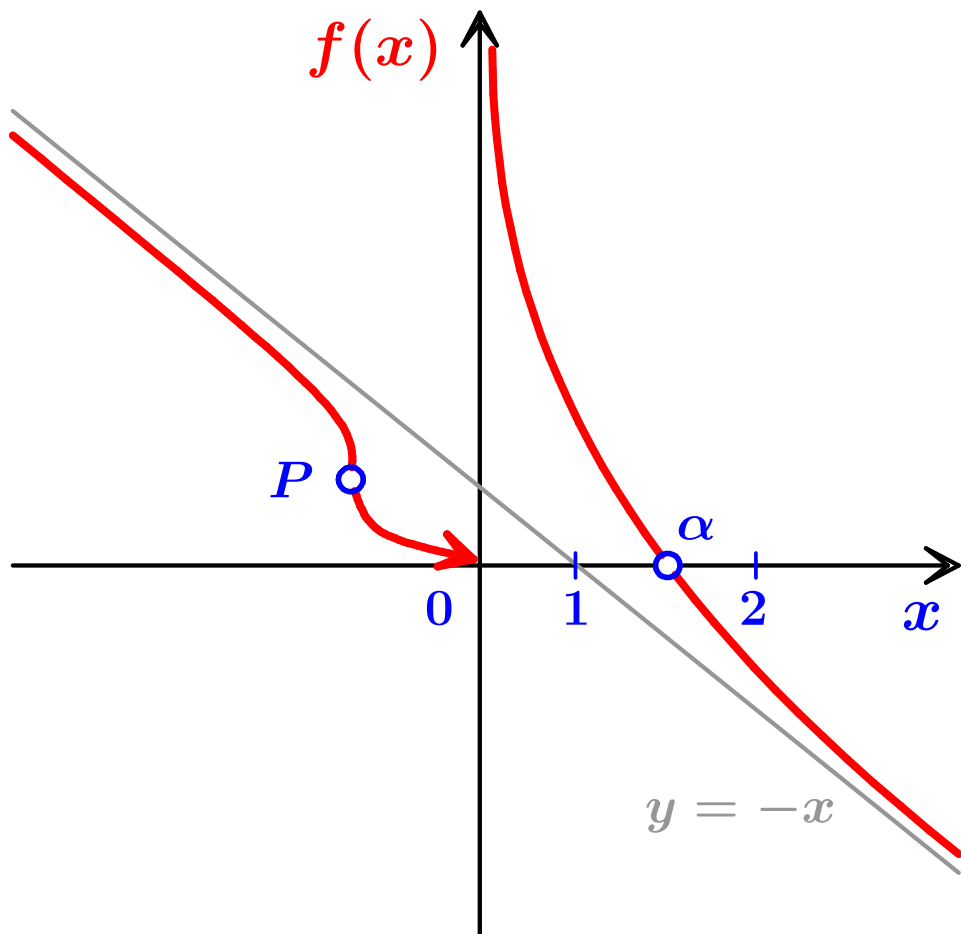
Знак: + 0 + $\boxed{\alpha}$ -.

6° $f'' = \frac{e^{\frac{1}{x}}(2x + 1)}{x^4}$.

Конвексност: $\cap \boxed{-1/2} \cup 0 \cup$.

Превојна тачка је $P\left(-\frac{1}{2}, \frac{1}{e^2} + \frac{1}{2}\right)$.

3. $f(x) = e^{\frac{1}{x}} - x$.



4. $f(x) = 2x - 3\sqrt[3]{x^2}$.

1° $D_f = \mathbb{R} = (-\infty, +\infty)$.

2° Нуле су $x = 0$ и $x = \frac{27}{8}$. Знак: $- \boxed{0} - \boxed{\frac{27}{8}} +$.

Пресек са y -осом је $Y(0, 0)$.

3° Није ни парна, ни непарна, ни периодична.

4° Нема прекида у $D_f \Rightarrow$ нема вер.ас.

$$\lim_{x \rightarrow -\infty} f(x) = -\infty, \quad \lim_{x \rightarrow +\infty} f(x) = +\infty.$$

$$k = \lim_{x \rightarrow \pm\infty} \frac{f(x)}{x} = 2, \quad n = \lim_{x \rightarrow \pm\infty} f(x) - k \cdot x = -\infty.$$

Нема асимптота.

5° $f' = 2 - \frac{2}{x^{1/3}}$. МоноTONOCT: $\searrow \boxed{0} \nearrow \boxed{1} \searrow$.

4. $f(x) = 2x - 3\sqrt[3]{x^2}$.

5° $f' = 2 - \frac{2}{x^{1/3}}$. МоноTONост: \searrow 0 \nearrow 1 \searrow .

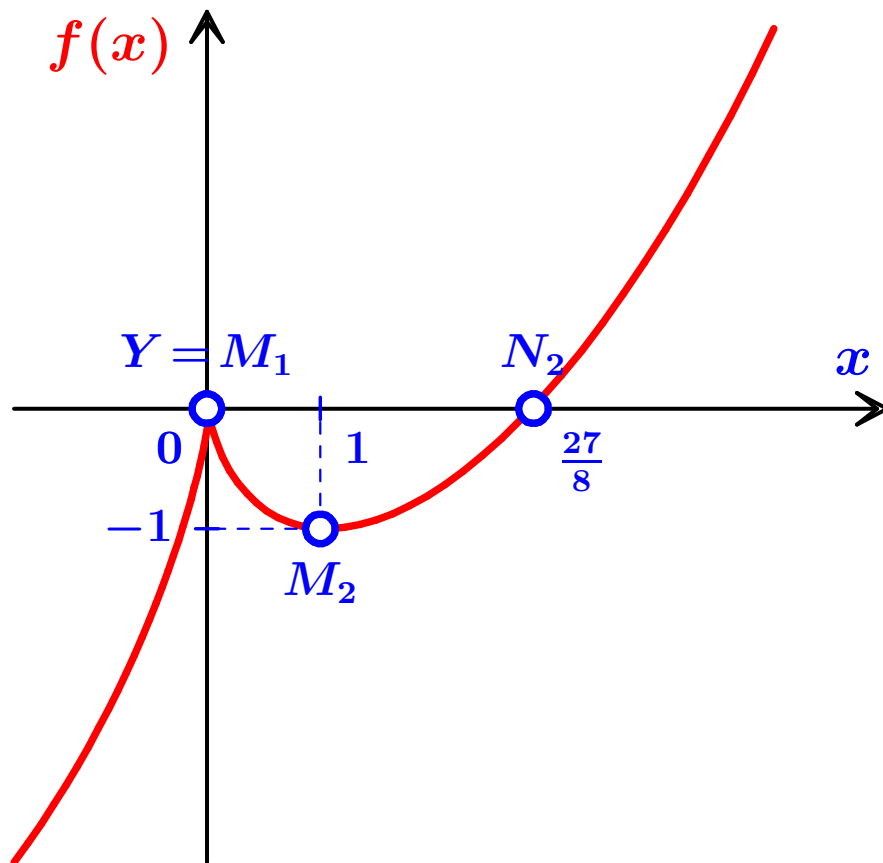
Лок.маx је $M_1(0, 0)$, а лок.мин $M_2(1, -1)$.

Напомена. У тачки M_1 први извод $f'(x)$ није дефинисан, али $f(x)$ јесте, па имамо локални максимум! На графику је ту шпиц и у тачку $(0, 0)$ и из ње график излази вертикално.

6° $f'' = \frac{2}{3x^{4/3}}$. Конвексност: \cup 0 \cup .

Нема превојних тачака.

4. $f(x) = 2x - 3\sqrt[3]{x^2}$.



КРАЈ ЧАСА